

**DOKUMEN
RAHASIA**



**KODE
UASBN 08**

**DINAS PENDIDIKAN DAN PENGAJARAN
KABUPATEN MIMIKA**

SEKOLAH DASAR YAYASAN PENDIDIKAN JAYAWIJAYA

**UJIAN AKHIR SEKOLAH BERTARAF NASIONAL
TINGKAT SEKOLAH DASAR (SD)
TAHUN PELAJARAN 2007/2008**

LEMBAR SOAL

Mata Pelajaran : **Social Science / IPS**
Satuan Pendidikan : **Sekolah Dasar**
Hari / Tanggal :
Alokasi Waktu : **120 Menit**
Dimulai pukul : **07.30 WIT.**
Diakhiri pukul : **09.30 WIT.**

PETUNJUK UMUM

1. Tulislah terlebih dahulu nama peserta, kode peserta, tanggal dan bidang studi pada kolom yang disediakan pada lembar jawaban komputer yang disediakan.
2. Tuliskan kode peserta kemudian hitamkan bulatan pada kode peserta.
3. Tersedia waktu 120 menit untuk mengerjakan soal tersebut
4. Jumlah soal 50 butir, pada setiap butir soal terdapat 4(empat pilihan jawaban)
5. Periksa dan bacalah soal- soal dengan cermat sebelum anda menjawabnya.
6. Laporkan kepada Pengawas Ujian jika terdapat tulisan yang kurang jelas, rusak atau jumlah soal kurang.
7. Kerjakan pada lembar jawaban komputer yang disediakan, hitamkan jawaban yang telah kamu pilih dengan menggunakan pencil 2B.
8. Mintalah kertas buram kepada Pengawas Ujian, bila diperlukan.
9. Periksa pekerjaan anda sebelum diserahkan kepada Pengawas Ujian.
10. Bacalah petunjuk pengerjaan dengan cermat !

SELAMAT BEKERJA

© Hak Cipta Pada Ardy Widyarso

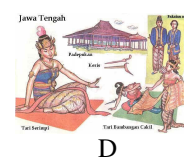



PETUNJUK Pengerjaan :

- Berilah tanda silang pada salah satu huruf pada lembar jawaban, yang anda anggap paling tepat.
- Apabila ada jawaban anda yang salah dan anda ingin memperbaikinya, coretlah dengan dua garis mendatar pada option (pilihan) anda yang salah, kemudian beri tanda silang (X) pada pilihan jawaban pengganti yang anda anggap benar.

Contoh :

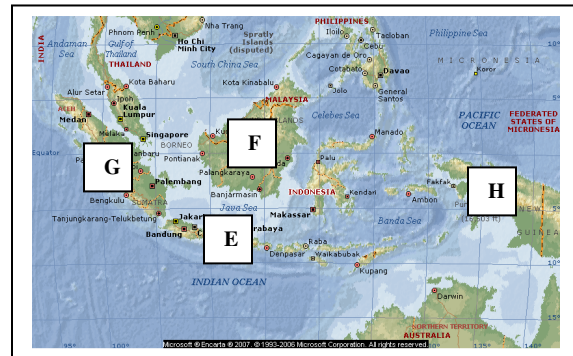
Pilihan semula	A	B	C	D
Dibetulkan menjadi	A	B	C	D

- Perhatikan gambar di bawah ini :
Kebudayaan Papua, berupa rumah adat, pakaian dan peralatannya, ditunjukkan pada gambar



- Pada peta berikut, wilayah hunian suku Dayak ditunjukkan dengan huruf ...

- E
- F
- G
- H



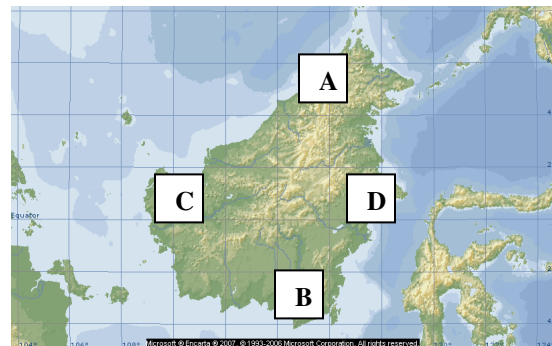
- Berikut ini adalah kesenian daerah yang khas berasal dari daerah Jawa Timur, yaitu ...
 - tari Jaipong
 - topeng Barongsai
 - tari Lilin
 - Reog Ponorogo
- Di bawah ini yang merupakan jenis usaha perekonomian mayoritas masyarakat Indonesia adalah
 - Industri
 - Agraris
 - Perdagangan
 - Jasa

5. Contoh bidang pekerjaan pada sektor JASA adalah sebagai berikut, kecuali
- Pak Amir guru IPS-SD-Koperapoka
 - Bu Antik menjual sayur di SP-3
 - Pak Syaiful pilot pesawat AirFast
 - Bu Mitha perawat di Klinik AEA
6. Laba perusahaan yang dibagikan kepada para pemegang saham disebut
- Ceque
 - Deposito
 - Deviden
 - Obligasi
7. Perusahaan yang seluruh modalnya dimiliki oleh negara, yang tujuannya untuk melindungi kepentingan umum dan pelayanan jasa kepada masyarakat adalah
- BUMN
 - BUMD
 - KSU
 - KOPPAS
8. Beberapa pekerjaan berikut di bawah ini tergolong tempat kegiatan distribusi, kecuali
- Super Market HERO
 - Toko Batik Papua
 - Bengkel Mobil Mandiri
 - Agen minyak tanah
9. Berikut ini adalah alur distribusi suatu barang
- konsumen – produsen – agen – pedagang besar - pengecer
 - produsen – agen – pedagang besar – pengecer – konsumen
 - produsen – konsumen – agen – pengecer – pedagang besar
 - agen – konsumen – pedagang besar – pengecer – produsen

10. Perhatikan Peta berikut !


Pada peta di samping, daerah bekas wilayah kerajaan Kutai ditandai dengan huruf

- A
- B
- C
- D



11. Gambar prasasti berikut adalah gambar prasasti Tarumanegara yaitu prasasti

- a. Pasir Awi
- b. Ciaruteun
- c. Muara Cianten
- d. Kebon kopi



12. Raja Kediri yang terkenal dengan ramalannya mengenai masa depan bangsa Indonesia adalah

- a. Jayabhaya
- b. Kertajaya
- c. Anusapati
- d. Kertanegara

13. Tujuan raja Singasari (Kertanegara) mengirimkan Ekspedisi Pamalayu adalah

- a. membendung serbuan tantara China
- b. menyerang kerajaan Sriwijaya
- c. menyerang Semenanjung Malaka
- d. menjaga perbatasan negara di kawasan Barat

14. Berikut ini adalah peran Gajah Mada dalam upaya mempersatukan Nusantara, kecuali

- a. menumpas pemberontakan Kutu
- b. menumpas pemberontakan Sadeng
- c. membangun angkatan laut yang kuat di bawah Mpu Nala
- d. memotong telinga utusan Kubilai Khan

15. Perhatikan gambar candi berikut ini.

Candi Prambanan ditunjukkan pada huruf



A



B



C



D

16. Peninggalan sejarah dalam bentuk batu bertulis disebut

- a. Yupa
- b. Prasasti
- c. Artefak
- d. Arca

17. Perhatikan gambar arca-arca berikut.

Yang merupakan arca Civa Mahaguru ditunjukkan dengan huruf



A



B



C



D

18. Kitab karangan Mpu Panuluh di zaman Kediri yang menceritakan perang saudara antara Jayabaya dengan Jayasabha adalah kitab

- a. Bharatayudha
- b. Jangka Jayabaya
- c. Smaradhahana
- d. Mahabharata

19. Upacara pembakaran mayat atau kremasi di Bali disebut

- a. upacara Tabuik
- b. upacara Sekaten
- c. upacara Mitoni
- d. upacara Ngaben

20. Seorang pendeta Budha yang pernah datang ke kerajaan Kaling tahun 664 dan menterjemahkan kitab-kitab agama Budha Hinayana adalah

- a. It-Tsing
- b. Fa-Hien
- c. Hwi-Ning
- d. Meng-Khi

21. Pada abad ke 11 kerajaan Sriwijaya mengalami kemunduran. Penyebab kemunduran Sriwijaya tersebut adalah karena

- a. Serangan singasari tahun 1275
- b. Serangan Majapahit tahun 1377
- c. Serangan Colamandala tahun 1025
- d. Malayu memisahkan diri dari Sriwijaya

22. Relief pada candi Borobudur yang menceritakan berlakunya hukum karma (sebab-akibat) adalah relief

- a. Lalitavistara
- b. Karmawibhangga

- c. Awadana
- d. Jatakamala

23. Candi yang merupakan candi Budha yang didirikan oleh Raja Indra tahun 824, yang terletak di timur Borobudur (Magelang) seperti tampak di bawah ini adalah candi

- a. Mendut
- b. Kalasan
- c. Sari
- d. Kidal



24. Kerajaan pertama berdiri di Indonesia yang bercorak Islam adalah kerajaan

- a. Aceh
- b. Demak
- c. Banten
- d. Samodra Pasai

25. Kronogram, tanda atau kata-kata yang menunjukkan tahun atau zaman disebut dengan istilah

- a. ukiran tahun
- b. relief tanda
- c. prasasti
- d. candrasengkala

26. Mubaliqh dari Jawa Timur yang berjasa menyiarkan agama Islam ke Maluku adalah sunan

- a. Bonang
- b. Kalijaga
- c. Gunung Jati
- d. Giri



27. Perhatikan data-data peninggalan budaya berikut :


- | | |
|--------------------|--------------------|
| 1. Candi Prambanan | 4. Siti Hinggil |
| 2. Pesta Tabuik | 5. Candi Borobudur |
| 3. Istana Maemun | 6. Upacara Sekaten |

Yang merupakan warisan peninggalan Budaya Islam adalah nomor

- a. 2, 3, 4, 6
- b. 1, 2, 3, 4
- c. 3, 4, 5, 6
- d. 1, 2, 5, 6

28. Bangunan di keraton Jogjakarta yang digunakan oleh raja untuk menyaksikan prajurit keraton melaksanakan latihan keprajuritan adalah

- a. Bangsal Pengrawit
- b. Bangsal Pegelaran
- c. Bangsal Kencono
- d. Bangsal Probayekso



29. Fungsi bangunan Gedong Kuning pada keraton peninggalan Mataram Islam di Jogyakarta adalah

- a. tempat melaksanakan upacara kebesaran dan menerima tamu agung keraton
- b. tempat pagelaran wayang kulit
- c. merupakan tempat kediaman pribadi Sultan Hamengkubuwono beserta keluarga
- d. tempat raja memberikan perintah kepada para senapati kerajaan

30. Pimpinan pelaut Belanda yang pertama kali berhasil mendarat di Banten tanggal 22 Juni 1596 adalah

- a. Jacob Van Neck
- b. Warwijk
- c. Amundsen
- d. Cornelis de Houtman

31. Pada mulanya, tujuan kedatangan Belanda ke Nusantara adalah

- a. menjajah dan menguasai
- b. mengelilingi dunia
- c. berdagang dengan semua bangsa
- d. mencari rempah-rempah

32. Berikut ini adalah Hak Monopoli yang diberikan pemerintah Belanda kepada VOC, **kecuali**

- a. menyatakan klaim atas wilayah kekuasaan VOC
- b. menyatakan perang dan damai
- c. membuat senjata dan mendirikan benteng
- d. mencetak uang

33. Gubernur Jendral Belanda yang memerintahkan pembuatan jalan raya dari Anyer – Panarukan dengan kerja rodi yang menyengsarakan rakyat adalah

- a. Jan Pieterzoon Coen
- b. Herman Willem Daendels
- c. Van Den Bosch

- d. Pieter Both
34. Latar belakang dilaksanakannya politik Sistem Tanam Paksa pada masa pemerintahan Gubernur Jendral Van Den Bosch adalah
- untuk mengisi kas negara Belanda yang kosong akibat perang
 - untuk menimbulkan kepedihan dan kesengsaraan rakyat
 - penduduk desa diwajibkan menyediakan tanah untuk ditanami tanaman yang laku di Eropa
 - agar rakyat Indonesia memiliki kepandaian bercocok tanam / pertanian
35. Dalam buku "Max Havelar", Multatuli menulis akibat-akibat yang dialami rakyat Indonesia karena pelaksanaan Sistem Tanam Paksa sebagai berikut, ***kecuali***
- keterbelakangan
 - kebodohan dan kemiskinan
 - kepandaian bertani
 - kelaparan dan penyakit
36. Munculnya perlawanan rakyat Maluku di bawah pimpinan Patimura disebabkan oleh beberapa hal berikut, ***kecuali***
- Monopoli rempah-rempah oleh Belanda
 - Belanda mengadakan pelayaran Hongi untuk membantu petani
 - Memaksa pemuda Maluku untuk menjadi serdadu Belanda yang akan dikirim ke Jawa
 - Rakyat dipaksa kerja rodi tanpa menerima upah
37. Latar belakang terjadinya perang Paderi di Sumatra Barat adalah
- perselisihan paham antara kaum Paderi dan kaum Adat
 - kaum Adat yang kehidupannya sangat dipengaruhi adat kebiasaan
 - kaum Paderi yang kehidupannya eksklusif santri dan tidak mau bergaul
 - Belanda mengeluarkan 'Plakat Panjang' untuk rakyat
38. Latar belakang Pangeran Diponegoro melawan Belanda adalah
- kecewa dengan keadaan istana
 - tidak senang dengan sikap Belanda yang merendahkan harkat dan martabat raja Jawa
 - pemasangan patok-patok jalan kereta api di makam leluhur Diponegoro
 - Belanda membakar daerah Tegalrejo, desa diponegoro



- b. Ulayat Wilayah
- c. Tawan Karang
- d. Represif

40. Pembentukan prajurit Heiho oleh Jepang bertujuan untuk

- a. menjadi pembantu prajurit Jepang dalam perang melawan Sekutu
- b. melatih para pemuda Indonesia dalam bidang keprajuritan
- c. memberi kesempatan kepada rakyat Indonesia ikut kegiatan politik
- d. memberi pelatihan mengenai cara membela tanah air

41. Organisasi pergerakan nasional Indonesia yang pertama kali didirikan adalah

- a. Serikat Dagang Islam
- b. Muhammadiyah
- c. Budi Utomo
- d. Indische Partij

42. Berikut ini adalah keuntungan-keuntungan beroperasinya perusahaan asing di Indonesia, **kecuali**

- a. menyediakan lapangan pekerjaan
- b. mencegah pencemaran lingkungan
- c. meningkatkan pendapatan negara
- d. penerapan teknologi / alih teknologi

43. Globalisasi mempengaruhi dan merubah perilaku masyarakat dalam berbagai hal berikut, **kecuali**

- a. gaya hidup dan nilai tradisi
- b. makanan dan pakaian
- c. komunikasi dan transportasi
- d. keyakinan / agama

44. Perhatikan lambang Koperasi berikut !

Lambang kemakmuran yang diusahakan dan yang harus dicapai oleh koperasi adalah

- a. Kapas dan Padi
- b. Pohon Beringin
- c. Timbangan
- d. Gigi Roda



45. Tujuan utama didirikannya koperasi adalah

- a. mengusahakan keuntungan usaha sebesar-besarnya
- b. menyediakan pekerjaan bagi pada anggota koperasi

- c. memberikan modal usaha bagi masyarakat
- d. meningkatkan kesejahteraan para anggotanya

46. Sebuah negara dikategorikan (digolongkan) sebagai negara besar, karena memiliki beberapa persyaratan sebagai berikut, **kecuali**

- a. wilayah yang luas
- b. penduduk yang banyak
- c. kenampakan alamnya indah
- d. industrinya sangat maju

47. Perhatikan gambar kenampakan buatan berikut ini !

Yang bukan merupakan kenampakan buatan yang terdapat di Mesir adalah



A



B



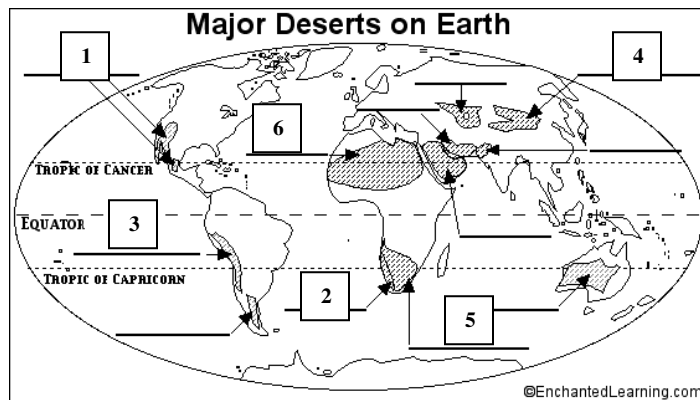
C



D

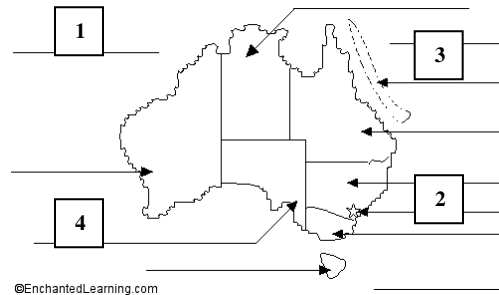
48. Lokasi gurun Gobi dan gurun Atacama pada peta di samping ditunjukkan dengan angka

- a. 1 dan 2
- b. 3 dan 5
- c. 3 dan 4
- d. 5 dan 6



49. Lokasi "The Great Barrier Reef" pada peta Australia di samping ditunjukkan dengan angka

- a. 1
- b. 2
- c. 3
- d. 4



50. Letak kenampakan buatan di samping yang salah adalah

- a. Piramid
- b. Machu Picu
- c. Gedung Parlemen Australia
- d. Great Wall



End ... Good Luck !

