



**DINAS PENDIDIKAN DAN PENGAJARAN
KABUPATEN MIMIKA**

TRY OUT 03

**UJIAN SEKOLAH (US) SEKOLAH DASAR (SD/MI)
TAHUN PELAJARAN 2007/2008**

LEMBAR SOAL

Mata Pelajaran : *Ilmu Pengetahuan Sosial*
Satuan Pendidikan : *SD / MI*
Hari / Tanggal : *Senin, 31 Maret 2008*
Alokasi Waktu : *120 Menit*
Dimulai pukul : *07.30 WIT.*
Diakhiri pukul : *09.30 WIT.*

PETUNJUK UMUM

1. Tulislah terlebih dahulu nomor kode sekolah dan nomor kode peserta anda baris atas (baris nomor 1) pada lembar jawaban yang disediakan.
2. Periksa dan bacalah soal-soal dengan cermat sebelum anda menjawabnya.
3. Laporkan kepada Pengawas Ujian jika terdapat tulisan yang kurang jelas, rusak atau jumlah soal kurang.
4. Jumlah soal sebanyak 50 butir, terdiri atas :
 - a. Pilihan ganda : 35 butir
 - b. Isian : 10 butir
 - c. Uraian : 5 butir
5. Dahulukan soal-soal yang anda anggap mudah.
6. Kerjakan pada lembar jawaban yang disediakan, dengan menggunakan bolpoin/pulpen yang berwarna biru atau hitam.
7. Mintalah kertas buram kepada Pengawas Ujian, bila diperlukan.
8. Periksa pekerjaan anda sebelum diserahkan kepada Pengawas Ujian.
9. Tidak diperkenankan menggunakan kalkulator, table matematika atau alat bantu hitung lainnya.
10. Bacalah petunjuk pengerjaan dengan cermat !

SELAMAT BEKERJA

PETUNJUK Pengerjaan :

1. Berilah tanda silang pada salah satu huruf pada lembar jawaban, yang anda anggap paling tepat.
2. Apabila ada jawaban anda yang salah dan anda ingin memperbaikinya, coretlah dengan dua garis mendatar pada option (pilihan) anda yang salah, kemudian beri tanda silang (X) pada pilihan jawaban pengganti yang anda anggap benar.

Contoh :

| | | | | |
|--------------------|---|---|---|---|
| Pilihan semula | A | B | C | D |
| Dibetulkan menjadi | A | B | C | D |

1. Kota Merauke pada peta di samping bawah (Gb.01) ditunjukkan dengan nomor

- a. 1
- b. 3
- c. 5
- d. 7

2. Perhatikan potensi-potensi daerah berikut :

daerah berikut :

1. pertanian
2. perikanan
3. pertambangan
4. pariwisata
5. perkebunan

Yang merupakan potensi daerah kab. Mimika ditunjukkan angka

- a. 1,2,5
- b. 1,3,5
- c. 2,4,5
- d. 1,2,3

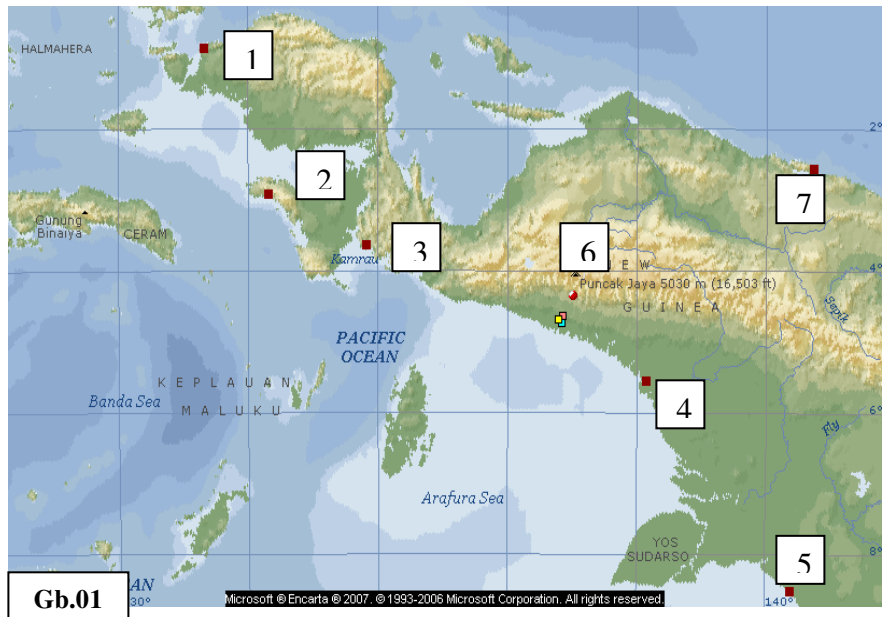
3. Perhatikan peta di samping (Gb.02)

Lokasi tambang Batubara di no.

- a. 1
- b. 2
- c. 3
- d. 4

4. Berikut ini adalah nama suku-suku yang tinggal di wilayah kab. Mimika, kecuai

- a. Amungme
- b. Kamoro
- c. Dhani
- d. Magal



Gb.01



Gb.02

5. Berikut ini **yang bukan** cara-cara menghargai peninggalan bersejarah adalah....
 - a. tidak merusak situs sejarah ketika kita mengunjunginya.
 - b. membiarkan keadaan situs seperti apa adanya
 - c. melaporkan ke dinas purbakala jika menemukan benda-benda bersejarah
 - d. mengambil bagian yang indah untuk kenang-kenangan

6. Sifat rela berkorban para pahlawan dapat kita tiru untuk kita laksanakan dalam kehidupan sehari-hari. Berikut merupakan pelaksanaan sifat rela berkorban, **kecuali**
 - a. menahan diri tidak ikut bermain sepak bola dan menggunakan waktu untuk belajar karena akan menghadapi ujian
 - b. membantu berhemat, tidak jajan tetapi membawa bekal dari rumah untuk makan siang
 - c. menggunakan waktu, pikiran dan tenaga untuk terus belajar meski harus meninggalkan kesenangan pribadi
 - d. mengikuti kegiatan club basket karena hobby dengan tidak mempermasalahkan soal waktu

7. Berikut ini beberapa aktifitas ekonomi masyarakat Kamoro yaitu, **kecuali**
 - a. mencari ikan di laut Arafuru
 - b. bertanam padi
 - c. mencari karaka di sepanjang pantai Mimika
 - d. memancing ikan di sungai-sungai

8. Tujuan didirikannya koperasi adalah untuk
 - a. mensejahterakan pengurus agar banyak mendapatkan modal
 - b. menghindarkan anggota koperasi dari praktek rentenir atau lintah darat
 - c. memakmurkan masyarakat dengan menjual barang yang murah
 - d. menyediakan bahan kebutuhan pokok anggotanya agar tak kelaparan

9. Contoh pengembangan teknologi pangan di bawah ini adalah
 - a. penjualan kerupuk singkong di pasar
 - b. bazar makanan pada saat bulan K-3
 - c. pengawetan makanan dengan ozon
 - d. alat penetas telur bertenaga listrik

10. Perhatikan gambar di sebelah kanan (Gb.03). Gambar itu adalah gambar peninggalan sejarah bercorak
 - a. Islam
 - b. Budha
 - c. Hindu
 - d. Kristen

11. Sedangkan candi-candi berikut adalah candi peninggalan Budha, **kecuali**
 - a. Mendut
 - b. Prambanan
 - c. Pawon
 - d. Borobudur



12. Beberapa benda sejarah peninggalan masa kerajaan Islam di Indonesia adalah sebagai berikut, **kecuali**
- Istana Siak Indrapura
 - Keraton Jogjakarta
 - Masjid Baiturrahman
 - Keraton Ratu Baka

13. Pada peta wilayah waktu di samping ini (Gb.04), Waktu Palembang (WIB) ditunjukkan pada angka
- 4
 - 1
 - 2
 - 3



14. Keragaman masyarakat Indonesia terlihat dari banyaknya suku, budaya, adat istiadat dll. Untuk kedamaian dan persatuan diperlukan kemampuan menghargai perbedaan yang ada. Salah satu caranya adalah
- mau mengikuti dan menerima semua adat dan kebiasaan setempat dimana kita tinggal
 - berusaha menyesuaikan diri dengan lingkungan dimana kita tinggal
 - tetap berprinsip bahwa budaya kita adalah yang terbaik
 - berpegang teguh pada adat istiadat leluhur kita masing-masing

15. Berikut ini adalah contoh-contoh tempat bekerja ;
- Terminal Bus
 - Bengkel Mobil
 - Toko Roti
 - Sekolahan
 - Bursa Efek Jakarta

Yang tergolong tempat bekerja dalam **bidang jasa** yaitu nomor

- 1,3,4,5
 - 3,4,5,2
 - 2,3,4,5
 - 1,2,4,5
16. Berikut adalah kegiatan-kegiatan ekonomi yang berlangsung dalam masyarakat.
- penerbangan Adam Air
 - pengiriman rokok Gudang Garam ke Jakarta
 - petani bertanam jagung
 - lomba makan kerupuk
 - eksport Garam ke Pilipina

Kegiatan ekonomi yang tergolong pada sektor distribusi ditunjukkan pada nomor

- 1,4
 - 2,5
 - 3,4
 - 4,5
17. Gambar tokoh pahlawan di samping (Gb.05) adalah
- Jend. Sudirman
 - Supriyadi
 - Diponegoro
 - Bung Tomo



18. Berikut adalah foto tokoh nasional yang berpangkat Panglima Besar yaitu....

- a. Moh. Yamin
- b. Jendral Sudirman
- c. Drs. Moh. Hatta
- d. Achmad Soebardjo



19. Salah satu cara kita menghargai jasa para pahlawan yang telah berjuang dengan jiwa raga mencapai kemerdekaan adalah, **kecuai**

- a. sebagai siswa belajar dengan giat mencapai prestasi
- b. belajar dan mencapai prestasi sebaik mungkin
- c. bersama teman bermain menyalurkan hobby kita
- d. selalu aktif dalam kegiatan belajar kelompok

20. Angin Muson Timur (April-Oktober) (Gb.07) berhembus dari benua Australia ke arah benua Asia menyebabkan wilayah Indonesia memasuki musim....

- a. panen
- b. hujan
- c. kemarau
- d. kering



21. Agin yang bertiup dari puncak gunung ke lembah/kaki gunung dan terjadi pada malam hari adalah angin

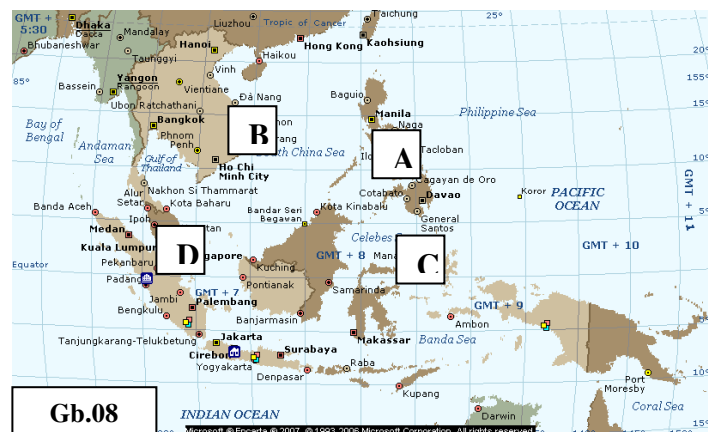
- a. Darat
- b. Laut
- c. Lembah
- d. Gunung

22. Angin kering dan panas yang berhembus sebagai angin fohn di wilayah Pasuruan dan Probolinggo adalah angin

- a. Gending
- b. Kumbang
- c. Wambrau
- d. Bohorok

23. Negara Singapura pada peta berikut (Gb.08) ditunjukkan dengan huruf

- a. C
- b. D
- c. B
- d. A

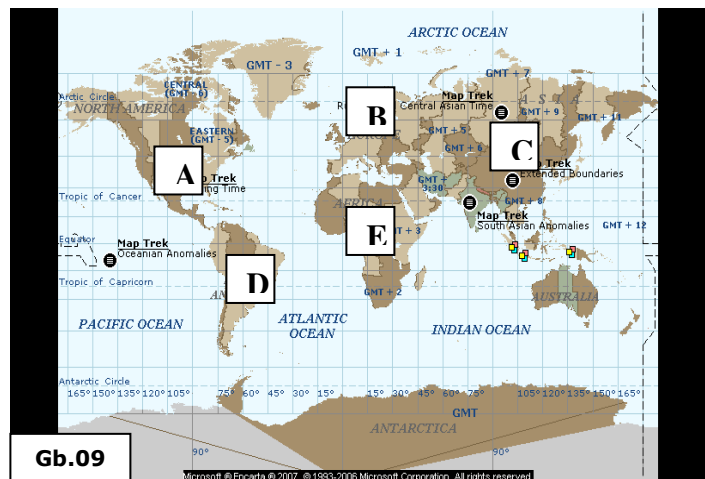


24. Nama mata uang sebagai alat tukar di negara Thailand adalah

- a. Riel
- b. Peso
- c. Bath
- d. Dong

25. Nama ibukota negara Papua New Guinea adalah
- Yanggon
 - Port Moresby
 - Hanoi
 - Manila
26. Malaysia menerapkan sistem pemerintahan Monarchi Konstitusional dengan kepala negaranya
- Raja
 - Raja, bergelar Yang Dipertuan Agung
 - Presiden
 - Perdana Menteri
27. Nama suku berikut yang mendiami negara Indonesia adalah suku
- Thai
 - Mestizo
 - Khmer
 - Sunda
28. Kota yang merupakan tempat pusat penelitian padi (IRRI) terdapat di negara
- Malaysia
 - Vitnam
 - Philipina
 - Thailand

29. Pada peta di samping (Gb.09), negara Mesir, terletak di benua yang ditunjukkan dengan huruf
- E
 - D
 - C
 - B



30. Sedangkan Amerika Latin pada peta tersebut (Gb.09) ditunjukkan dengan huruf
- E
 - D
 - C
 - B

31. Di sebelah kanan bawah ini adalah gambar kenampakan alam berupa air terjun yang terdapat di Tanzania, Afrika (Gb.10) yaitu air terjun
- Niagara
 - Sigura-gura
 - The Angel
 - Victoria Falls



32. Sedangkan sungai terpanjang di Amerika Selatan yang mengalir di sepanjang benua itu adalah sungai
- Olga
 - Amazona
 - Rheine
 - Nile

33. Perhatikan gambar berikut !



A. Lake Baikal

B. Lake Victoria

C. Dead Sea

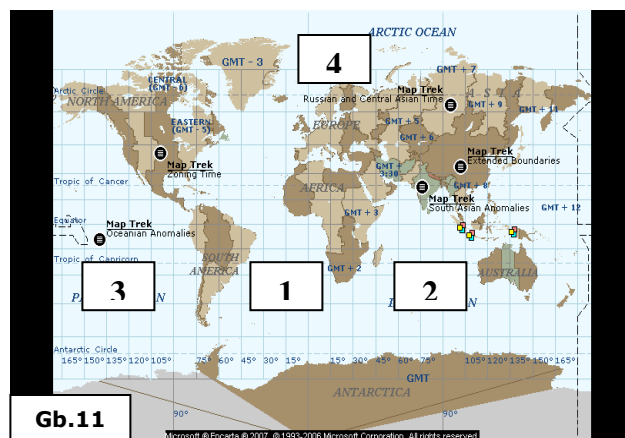
D. Lake Michigan

Gambar di atas yang merupakan kenampakan alam danau terdalam di dunia adalah gambar

- A
- B
- D
- C

34. Letak samudra Hindia pada peta dunia di samping (Gb.11), ditunjukkan dengan angka

- 1
- 2
- 3
- 4



35. Kenampakan alam berupa pegunungan yang memisahkan India dengan China adalah pegunungan

- Karakorum
- Himalaya
- Pyrenian
- Rocky Mountains

36. Proses menduniannya segala aspek kehidupan di masyarakat dikenal dengan istilah proses

- globalisasi
- transparansi
- urbanisasi
- Migrasi

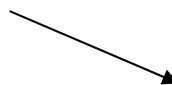
37. Kejadian di suatu tempat/negara dapat diketahui dengan cepat di negara lain, adalah akibat kemajuan pada bidang

- industri
- transportasi
- telekomunikasi
- periklanan

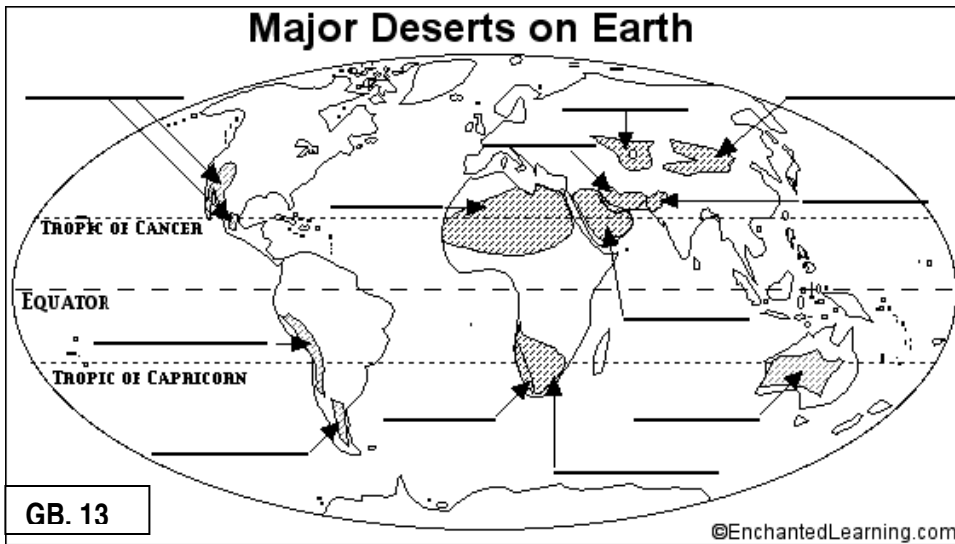
38. Hal-hal berikut ini terjadi akibat globalisasi, *kecuali*

- produk luar negeri dapat kita peroleh dengan mudah
- wilayah industri semakin luas
- banyak perusahaan asing masuk ke Indonesia
- semakin mudah dan cepat berkomunikasi

39. Contoh perilaku yang bukan merupakan akibat adanya arus globalisasi adalah
- transaksi jual-beli lewat internet
 - kebiasaan berpakaian jas dalam acara resmi
 - makan di restoran fast food menjadi hal biasa
 - melakukan perjalanan jauh dengan jalan kaki
40. Perusahaan besar yang membuka usahanya di berbagai negara disebut
- perusahaan multinasional
 - perusahaan pribadi
 - perusahaan nasional
 - Perusahaan toserba
41. Berikut ini yang bukan faktor pendorong masuk dan berdirinya perusahaan asing di Indonesia adalah
- tenaga kerja Indonesia mahal
 - tersedianya bahan baku dan sumber daya manusia
 - konsumennya besar
 - stabilitas keamanan yang baik
42. Sedangkan faktor yang mendorong berdiri/ber-operasinya perusahaan asing di Indonesia adalah
- keamanan dalam negeri belum stabil
 - kebijakan pemerintah yang membebani pajak tinggi pada perusahaan asing
 - tersedianya bahan baku dan sumber daya manusia
 - tenaga kerja Indonesia menginginkan gaji yang tinggi
43. Berikut ini beberapa contoh produk makanan yang berasal dari luar negeri, yaitu
- hamburger, tape ketan, kurma
 - udon, gethuk, kwe tiaw
 - pizza, spaghetti, hamburger
 - pempek, sushi, ramen
44. Contoh perusahaan asing yang ber-operasi di Indonesia adalah
- Matahari Dept. Store
 - Pt. Freeport McMoRan
 - Pt. Telkomsel
 - Bank Central Asia
45. Kerugian adanya perusahaan asing adalah sebagai berikut, kecuali
- pencemaran lingkungan
 - peralihan fungsi lahan
 - tidak sepenuhnya menikmati hasil alam
 - meningkatkan pendapatan negara
46. Kenampakan buatan terusan Suez di Mesir (GB. 12) berfungsi untuk menghubungkan transportasi laut antara laut
- Laut Pasifik dengan laut Atlantik
 - Laut Kaspia dengan laut Tengah
 - Laut Tengah dengan laut Merah
 - Laut Baltik dengan laut Atlantik



GB. 12

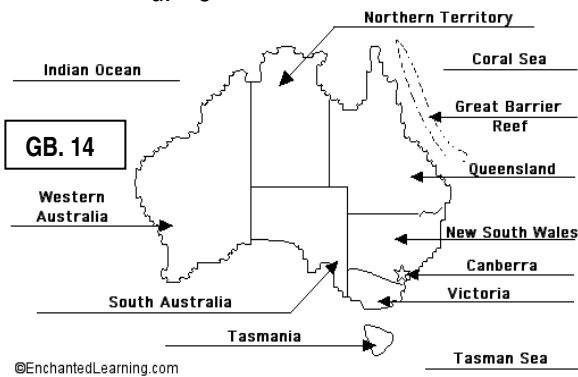


47. Perhatikan gambar di atas ! (GB. 13) Gurun Atacama ditunjukkan pada nomor

- a. 1
- b. 2
- c. 3
- d. 4

48. Sedangkan Gurun Takla Makan Gobi ditunjukkan pada nomor

- a. 5
- b. 6
- c. 7
- d. 8



49. Perhatikan Peta di atas ! (GB. 14) "Great Barrier Reef" ditunjukkan pada angka

- a. 1
- b. 2
- c. 3
- d. 4

50. Sedangkan Negara Bagian Queensland ditunjukkan pada angka

- a. 5
- b. 6
- c. 7
- d. 8

Selamat & Sukses !