

LATIHAN SOAL-SOAL IPS


PETUNJUK Pengerjaan :

1. Berilah tanda silang pada salah satu huruf pada lembar jawaban, yang anda anggap paling tepat.
2. Apabila ada jawaban anda yang salah dan anda ingin memperbaikinya, coretlah dengan dua garis mendatar pada option (pilihan) anda yang salah, kemudian beri tanda silang (X) pada pilihan jawaban pengganti yang anda anggap benar.

Contoh :

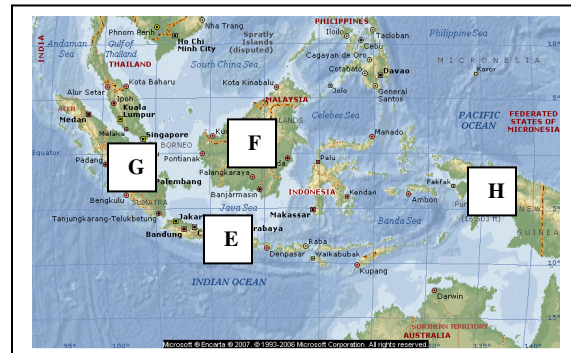
Pilihan semula	A	B	C	D
Dibetulkan menjadi	A	B	C	D

1. Perhatikan gambar di bawah ini :
Kebudayaan Papua, berupa rumah adat, pakaian dan peralatannya, ditunjukkan pada gambar



2. Pada peta berikut, wilayah hunian suku Dayak ditunjukkan dengan huruf

- a. E
- b. F
- c. G
- d. H



3. Berikut ini adalah kesenian daerah yang khas berasal dari daerah Jawa Timur, yaitu
 - a. tari Jaipong
 - b. topeng Barongsai
 - c. tari Lilin
 - d. Reog Ponorogo
4. Di bawah ini yang merupakan jenis usaha perekonomian mayoritas masyarakat Indonesia adalah
 - a. Industri
 - b. Agraris
 - c. Perdagangan
 - d. Jasa

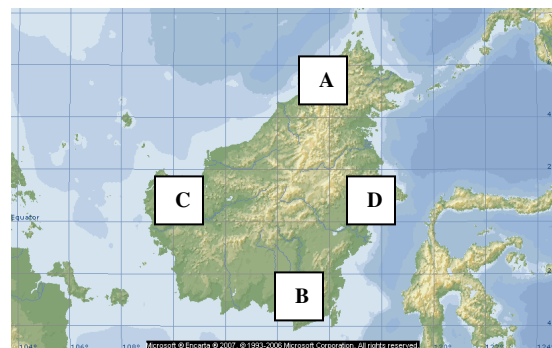


5. Contoh bidang pekerjaan pada sektor JASA adalah sebagai berikut, kecuali
- Pak Amir guru IPS-SD-Koperapoka
 - Bu Antik menjual sayur di SP-3
 - Pak Syaiful pilot pesawat AirFast
 - Bu Mitha perawat di Klinik AEA
6. Laba perusahaan yang dibagikan kepada para pemegang saham disebut
- Ceque
 - Deposito
 - Deviden
 - Obligasi
7. Perusahaan yang seluruh modalnya dimiliki oleh negara, yang tujuannya untuk melindungi kepentingan umum dan pelayanan jasa kepada masyarakat adalah
- BUMN
 - BUMD
 - KSU
 - KOPPAS
8. Beberapa pekerjaan berikut di bawah ini tergolong tempat kegiatan distribusi, kecuali
- Super Market HERO
 - Toko Batik Papua
 - Bengkel Mobil Mandiri
 - Agen minyak tanah
9. Berikut ini adalah alur distribusi suatu barang
- konsumen – produsen – agen – pedagang besar - pengecer
 - produsen – agen – pedagang besar – pengecer – konsumen
 - produsen – konsumen – agen – pengecer – pedagang besar
 - agen – konsumen – pedagang besar – pengecer – produsen

10. Perhatikan Peta berikut !


Pada peta di samping, daerah bekas wilayah kerajaan Kutai ditandai dengan huruf

- A
- B
- C
- D



11. Gambar prasasti berikut adalah gambar prasasti Tarumanegara yaitu prasasti

- a. Pasir Awi
- b. Ciaruteun
- c. Muara Cianten
- d. Kebon kopi



12. Raja Kediri yang terkenal dengan ramalannya mengenai masa depan bangsa Indonesia adalah

- a. Jayabhaya
- b. Kertajaya
- c. Anusapati
- d. Kertanegara

13. Tujuan raja Singasari (Kertanegara) mengirimkan Ekspedisi Pamalayu adalah

- a. membendung serbuan tatar China
- b. menyerang kerajaan Sriwijaya
- c. menyerang Semenanjung Malaka
- d. menjaga perbatasan negara di kawasan Barat

14. Berikut ini adalah peran Gajah Mada dalam upaya mempersatukan Nusantara, kecuali

- a. menumpas pemberontakan Kuti
- b. menumpas pemberontakan Sadeng
- c. membangun angkatan laut yang kuat di bawah Mpu Nala
- d. memotong telinga utusan Kubilai Khan

15. Perhatikan gambar candi berikut ini. Candi Prambanan ditunjukkan pada huruf



A



B



C



D

16. Peninggalan sejarah dalam bentuk batu bertulis disebut

- a. Yupa
- b. Prasasti
- c. Artefak
- d. Arca



17. Perhatikan gambar arca-arca berikut.
Yang merupakan arca Civa Mahaguru ditunjukkan dengan huruf



A



B



C



D

18. Kitab karangan Mpu Panuluh di zaman Kediri yang menceritakan perang saudara antara Jayabaya dengan Jayasabha adalah kitab
- Bharatayudha
 - Jangka Jayabaya
 - Smaradhahana
 - Mahabharata
19. Upacara pembakaran mayat atau kremasi di Bali disebut
- upacara Tabuik
 - upacara Sekaten
 - upacara Mitoni
 - upacara Ngaben
20. Seorang pendeta Budha yang pernah datang ke kerajaan Kaling tahun 664 dan menterjemahkan kitab-kitab agama Budha Hinayana adalah
- It-Tsing
 - Fa-Hien
 - Hwi-Ning
 - Meng-Khi
21. Pada abad ke 11 kerajaan Sriwijaya mengalami kemunduran. Penyebab kemunduran Sriwijaya tersebut adalah karena
- Serangan singasari tahun 1275
 - Serangan Majapahit tahun 1377
 - Serangan Colamandala tahun 1025
 - Malayu memisahkan diri dari Sriwijaya
22. Relief pada candi Borobudur yang menceritakan berlakunya hukum karma (sebab-akibat) adalah relief
- Lalitavistara
 - Karmawibhangga
 - Awadana
 - Jatakamala



23. Candi yang merupakan candi Budha yang didirikan oleh Raja Indra tahun 824, yang terletak di timur Borobudur (Magelang) seperti tampak di bawah ini adalah candi

- a. Mendut
- b. Kalasan
- c. Sari
- d. Kidal



24. Kerajaan pertama berdiri di Indonesia yang bercorak Islam adalah kerajaan

- a. Aceh
- b. Demak
- c. Banten
- d. Samodra Pasai

25. Kronogram, tanda atau kata-kata yang menunjukkan tahun atau zaman disebut dengan istilah

- a. ukiran tahun
- b. relief tanda
- c. prasasti
- d. candrasengkala

26. Mubaligh dari Jawa Timur yang berjasa menyiarkan agama Islam ke Maluku adalah sunan

- a. Bonang
- b. Kalijaga
- c. Gunung Jati
- d. Giri



27. Perhatikan data-data peninggalan budaya berikut :

- | | |
|--------------------|--------------------|
| 1. Candi Prambanan | 4. Siti Hinggil |
| 2. Pesta Tabuik | 5. Candi Borobudur |
| 3. Istana Maemun | 6. Upacara Sekaten |

Yang merupakan warisan peninggalan Budaya Islam adalah nomor

- a. 2, 3, 4, 6
- b. 1, 2, 3, 4
- c. 3, 4, 5, 6
- d. 1, 2, 5, 6




28. Bangunan di keraton Jogjakarta yang digunakan oleh raja untuk menyaksikan prajurit keraton melaksanakan latihan keprajuritan adalah
- Bangsas Pengrawit
 - Bangsas Pegelaran
 - Bangsas Kencono
 - Bangsas Proboyekso
29. Fungsi bangunan Gedong Kuning pada keraton peninggalan Mataram Islam di Jogjakarta adalah
- tempat melaksanakan upacara kebesaran dan menerima tamu agung keraton
 - tempat pagelaran wayang kulit
 - merupakan tempat kediaman pribadi Sultan Hamengkubuwono beserta keluarga
 - tempat raja memberikan perintah kepada para senapati kerajaan
30. Pimpinan pelaut Belanda yang pertama kali berhasil mendarat di Banten tanggal 22 Juni 1596 adalah
- Jacob Van Neck
 - Warwijk
 - Amundsen
 - Cornelis de Houtman
31. Pada mulanya, tujuan kedatangan Belanda ke Nusantara adalah
- menjajah dan menguasai
 - mengelilingi dunia
 - berdagang dengan semua bangsa
 - mencari rempah-rempah
32. Berikut ini adalah Hak Monopoli yang diberikan pemerintah Belanda kepada VOC, ***kecuali***
- menyatakan klaim atas wilayah kekuasaan VOC
 - menyatakan perang dan damai
 - membuat senjata dan mendirikan benteng
 - mencetak uang
33. Gubernur Jendral Belanda yang memerintahkan pembuatan jalan raya dari Anyer – Panarukan dengan kerja rodi yang menyengsarakan rakyat adalah
- Jan Pieterzoon Coen
 - Herman Willem Daendels
 - Van Den Bosch
 - Pieter Both



34. Latar belakang dilaksanakannya politik Sistem Tanam Paksa pada masa pemerintahan Gubernur Jendral Van Den Bosch adalah
- untuk mengisi kas negara Belanda yang kosong akibat perang
 - untuk menimbulkan kepedihan dan kesengsaraan rakyat
 - penduduk desa diwajibkan menyediakan tanah untuk ditanami tanaman yang laku di Eropa
 - agar rakyat Indonesia memiliki kepandaian bercocok tanam / pertanian
35. Dalam buku "Max Havelar", Multatuli menulis akibat-akibat yang dialami rakyat Indonesia karena pelaksanaan Sistem Tanam Paksa sebagai berikut, **kecuali**
- keterbelakangan
 - kebodohan dan kemiskinan
 - kepandaian bertani
 - kelaparan dan penyakit
36. Munculnya perlawanan rakyat Maluku di bawah pimpinan Patimura disebabkan oleh beberapa hal berikut, **kecuali**
- Monopoli rempah-rempah oleh Belanda
 - Belanda mengadakan pelayaran Hongi untuk membantu petani
 - Memaksa pemuda Maluku untuk menjadi serdadu Belanda yang akan dikirim ke Jawa
 - Rakyat dipaksa kerja rodi tanpa menerima upah
37. Latar belakang terjadinya perang Paderi di Sumatra Barat adalah
- perselisihan paham antara kaum Paderi dan kaum Adat
 - kaum Adat yang kehidupannya sangat dipengaruhi adat kebiasaan
 - kaum Paderi yang kehidupannya eksklusif santri dan tidak mau bergaul
 - Belanda mengeluarkan 'Plakat Panjang' untuk rakyat
38. Latar belakang Pangeran Diponegoro melawan Belanda adalah
- kecewa dengan keadaan istana
 - tidak senang dengan sikap Belanda yang merendahkan harkat dan martabat raja Jawa
 - pemasangan patok-patok jalan kereta api di makam leluhur Diponegoro
 - Belanda membakar daerah Tegalrejo, desa diponegoro



40. Pembentukan prajurit Heiho oleh Jepang bertujuan untuk
- menjadi pembantu prajurit Jepang dalam perang melawan Sekutu
 - melatih para pemuda Indonesia dalam bidang keprajuritan
 - memberi kesempatan kepada rakyat Indonesia ikut kegiatan politik
 - memberi pelatihan mengenai cara membela tanah air
41. Organisasi pergerakan nasional Indonesia yang pertama kali didirikan adalah
- Serikat Dagang Islam
 - Muhammadiyah
 - Budi Utomo
 - Indische Partij
42. Berikut ini adalah keuntungan-keuntungan beroperasinya perusahaan asing di Indonesia, **kecuali**
- menyediakan lapangan pekerjaan
 - mencegah pencemaran lingkungan
 - meningkatkan pendapatan negara
 - penerapan teknologi / alih teknologi
43. Globalisasi mempengaruhi dan merubah perilaku masyarakat dalam berbagai hal berikut, **kecuali**
- gaya hidup dan nilai tradisi
 - makanan dan pakaian
 - komunikasi dan transportasi
 - keyakinan / agama
44. Perhatikan lambang Koperasi berikut !
Lambang kemakmuran yang diusahakan dan yang harus dicapai oleh koperasi adalah
- Kapas dan Padi
 - Pohon Beringin
 - Timbangan
 - Gigi Roda
- 
- The logo of Koperasi Indonesia is circular. It features a central green tree with a white trunk and branches, set against a red background. Above the tree is a yellow gear with a black star in the center. The gear is flanked by two yellow scales of justice. The entire emblem is surrounded by a yellow border with a chain-link pattern. At the bottom, a white banner contains the text 'KOPERASI INDONESIA' in black capital letters.



46. Sebuah negara dikategorikan (digolongkan) sebagai negara besar, karena memiliki beberapa persyaratan sebagai berikut, **kecuali**
- a. wilayah yang luas
 - b. penduduk yang banyak
 - c. kenampakan alamnya indah
 - d. industrinya sangat maju

47. Perhatikan gambar kenampakan buatan berikut ini !
Yang bukan merupakan kenampakan buatan yang terdapat di Mesir adalah



A



B



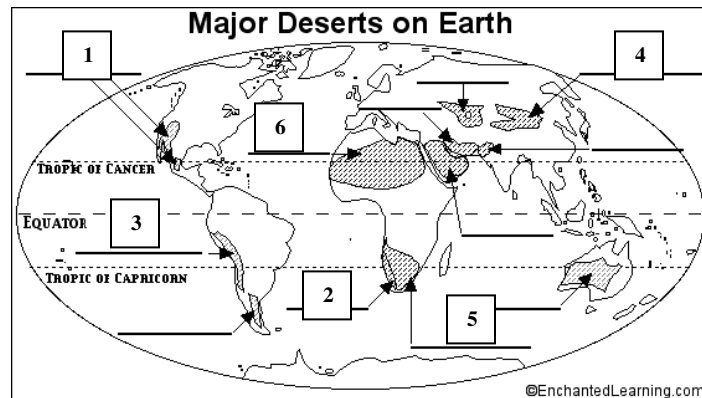
C



D

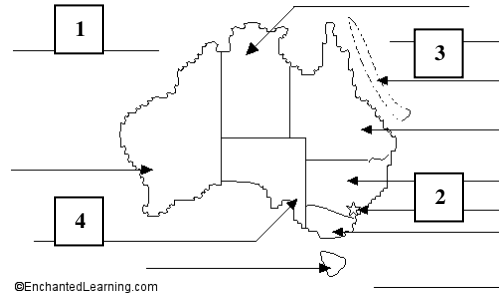
48. Lokasi gurun Gobi dan gurun Atacama pada peta di samping ditunjukkan dengan angka

- a. 1 dan 2
- b. 3 dan 5
- c. 3 dan 4
- d. 5 dan 6



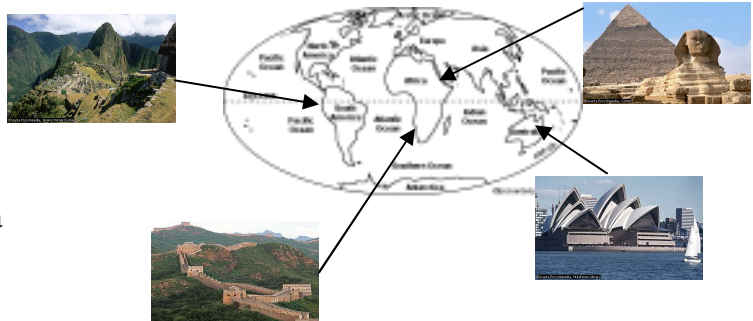
49. Lokasi "The Great Barrier Reef" pada peta Australia di samping ditunjukkan dengan angka

- a. 1
- b. 2
- c. 3
- d. 4

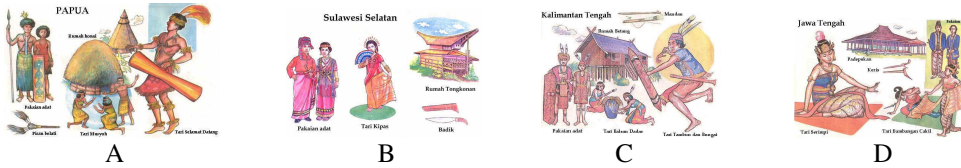


50. Letak kenampakan buatan di samping yang salah adalah

- a. Piramid
- b. Machu Picu
- c. Gedung Parlemen Australia
- d. Great Wall



51. Perhatikan gambar di bawah ini :
Kebudayaan Jawa, berupa rumah adat, pakaian dan peralatannya, ditunjukkan pada gambar



52. Berikut ini adalah kesenian daerah yang khas berasal dari daerah Sumatra Barat, yaitu

- tari Jaipong
 - topeng Barongsai
 - tari Lilin
 - Reog Ponorogo
53. Contoh bidang pekerjaan pada sektor JASA adalah sebagai berikut, kecuali
- Pak Gatot guru IPS-SD-Koperapoka
 - Pak Andrew pilot pesawat AirFast
 - Bu Vonie perawat di Klinik AEA
 - Pak Bob menanam duren di Bogor
54. Berdasarkan jenis-jenis usahanya, koperasi dikelompokkan sebagai berikut
- Koperasi Serba Usaha, Koperasi Konsumsi, Koperasi Simpan Pinjam, Koperasi Produksi
 - Koperasi Pegawai Negeri, Koperasi Pasar, Koperasi Unit Desa, Koperasi Sekolah
 - Koperasi Unit Desa, Koperasi Sekolah, Koperasi Simpan Pinjam, Koperasi Produksi
 - Koperasi Serba Usaha, Koperasi Konsumsi, Koperasi Pegawai Negeri, Koperasi Pasar
55. Perusahaan yang seluruh modalnya dimiliki oleh daerah, yang tujuannya untuk melindungi kepentingan umum dan pelayanan jasa kepada masyarakat adalah
- BUMN
 - BUMD
 - KSU
 - KOPPAS
56. Beberapa tempat pekerjaan berikut di bawah ini tergolong tempat kegiatan distribusi, kecuali
- Duta Tour and Travel
 - Super Market STAR
 - Toko Batik Solo
 - Agen minyak tanah



57. Berikut ini adalah alur distribusi suatu barang
- konsumen – produsen – agen – pedagang besar - pengecer
 - produsen – konsumen – agen – pengecer – pedagang besar
 - agen – konsumen – pedagang besar – pengecer – produsen
 - produsen – agen – pedagang besar – pengecer – konsumen

58. Perhatikan Peta berikut !
Pada peta di samping, daerah bekas wilayah kerajaan Tarumanegara ditandai dengan huruf




- A
 - B
 - C
 - D
59. Gambar prasasti berikut adalah gambar prasasti yaitu prasasti



- Pasir Awi
 - Tugu
 - Muara Cianten
 - Kebon kopi
60. Tujuan raja Singasari (Kertanegara) mengirimkan Ekspedisi Pamalayu adalah
- menyerang kerajaan Sriwijaya
 - menyerang Semenanjung Malaka
 - membendung serbuan tantara China
 - menjaga perbatasan negara di kawasan Barat

61. Berikut ini adalah peran Gajah Mada dalam upaya mempersatukan Nusantara, **kecuali**
- menumpas pemberontakan Sadeng
 - menumpas pemberontakan Kutu
 - memotong telinga utusan Kubilai Khan
 - membangun angkatan laut yang kuat di bawah Mpu Nala


62. Perhatikan gambar candi berikut ini.
Candi Pawon ditunjukkan pada huruf



A



B



C



D



63. Perhatikan gambar arca-arca berikut.
Yang merupakan arca Civa Durga Sura Mahesa Mardhani ditunjukkan dengan huruf



A



B



C



D

64. Kitab karangan Mpu Dharmaja sebagai persembahan untuk raja Kameswara dari Kediri yang menceritakan asmara yang membara membahana adalah kitab
- Bharatayudha
 - Jangka Jayabaya
 - Smaradhahana
 - Mahabharata
65. Upacara mengenang kegigihan Hasan dan Husein, cucu nabi Muhammad dalam membela Islam yang dilaksanakan di Pariaman sumatra Barat disebut
- upacara Tabuik
 - upacara Sekaten
 - upacara Mitoni
 - upacara Ngaben
66. Seorang pendeta Budha yang pernah datang ke kerajaan Kaling tahun 664 dan menterjemahkan kitab-kitab agama Budha Hinayana adalah
- Hwi-Ning
 - It-Tsing
 - Fa-Hien
 - Meng-Khi
67. Pada abad ke 13 kerajaan Sriwijaya kembali mengalami kemunduran. Penyebab kemunduran Sriwijaya tersebut adalah karena
- Serangan Singasari tahun 1275
 - Serangan Majapahit tahun 1377
 - Serangan Colamandala tahun 1025
 - Malayu memisahkan diri dari Sriwijaya
68. Relief pada candi Borobudur yang menceritakan tentang kehidupan Budha di masa lalu adalah relief
- Lalitavistara
 - Karmawibhangga
 - Awadana
 - Jatakamala



69. Kerajaan pertama berdiri di Jawa yang bercorak Islam adalah kerajaan
- Aceh
 - Demak
 - Banten
 - Samodra Pasai
70. Kronogram, tanda atau kata-kata yang menunjukkan tahun atau zaman disebut dengan istilah
- ukiran tahun
 - candrasengkala
 - relief tanda
 - prasasti

71. Wali Sanga yang berjasa menyiarkan agama Islam di Jawa Tengah wilayah utara (Demak) adalah sunan

- Bonang
- Kalijaga
- Gunung Jati
- Giri



72. Perhatikan data-data peninggalan budaya berikut :

- | | |
|--------------------|--------------------|
| 4. Candi Prambanan | 4. Siti Hinggil |
| 5. Pesta Tabuik | 5. Candi Borobudur |
| 6. Istana Maemun | 6. Upacara Sekaten |

Yang merupakan warisan peninggalan Budaya Hindu dan Budha adalah nomor

- 1, 5
- 1, 3
- 4, 5
- 2, 6

73. Bangunan di keraton Jogjakarta yang digunakan oleh raja untuk upacara kebesaran dan penerimaan tamu agung keraton adalah


- Bangsas Pengrawit
- Bangsas Pegelaran
- Bangsas Kencono
- Bangsas Probeyekso

74. Fungsi bangunan Bangsal Probeyekso pada keraton peninggalan Mataram Islam di Jogyakarta adalah



- a. tempat menyimpan benda-benda pusaka keraton
 - b. tempat pagelaran wayang kulit
 - c. merupakan tempat kediaman pribadi Sultan Hamengkubuwono beserta keluarga
 - d. tempat raja memberikan perintah kepada para senapati kerajaan
75. Pimpinan pelaut Belanda yang pertama kali berhasil mendarat di Banten tanggal 22 Juni 1596 adalah
- a. Jacob Van Neck
 - b. Cornelis de Houtman
 - c. Colombus
 - d. Bartholomeus Diaz
76. Pada mulanya, tujuan kedatangan Belanda ke Nusantara adalah
- a. menjajah dan menguasai
 - b. mengelilingi dunia
 - c. mencari rempah-rempah
 - d. berdagang dengan semua bangsa
77. Berikut ini adalah Hak Monopoli yang diberikan pemerintah Belanda kepada VOC, **kecuali**
- a. menyatakan perang dan damai
 - b. membuat senjata dan mendirikan benteng
 - c. mencetak uang
 - d. menguasai kerajaan-kerajaan yang ada di Nusantara
78. Gubernur Jendral Belanda yang memerintahkan pelaksanaan sistem TANAM PAKSA yang sangat menyengsarakan rakyat adalah
- a. Jan Pieterzoon Coen
 - b. Herman Willem Daendels
 - c. Van Den Bosch
 - d. Pieter Both
79. Dalam buku "Max Havelar", Multatuli menulis akibat-akibat yang dialami rakyat Indonesia karena pelaksanaan Sistem Tanam Paksa sebagai berikut, **kecuali**
- a. keterbelakangan
 - b. kemampuan berlayar
 - c. kebodohan dan kemiskinan
 - d. kelaparan dan penyakit
80. Latar belakang terjadinya perang Paderi di Sumatra Barat adalah
- a. kaum Adat yang kehidupannya sangat dipengaruhi adat kebiasaan
 - b. kaum Paderi yang kehidupannya eksklusif santri dan tidak mau bergaul
 - c. perselisihan paham antara kaum Paderi dan kaum Adat
 - d. Belanda mengeluarkan 'Plakat Panjang' untuk rakyat



81. Pembentukan prajurit Heiho oleh Jepang bertujuan untuk
- melatih para pemuda Indonesia dalam bidang keprajuritan
 - memberi kesempatan kepada rakyat Indonesia ikut kegiatan politik
 - menjadi pembantu prajurit Jepang dalam perang melawan Sekutu
 - memberi pelatihan mengenai cara membela tanah air
82. Organisasi pergerakan nasional Indonesia yang pertama kali didirikan adalah
- Budi Utomo
 - Serikat Dagang Islam
 - Muhammadiyah
 - Indische Partij
83. Globalisasi mempengaruhi dan merubah perilaku masyarakat dalam berbagai hal berikut, **kecuali**
- gaya hidup dan nilai tradisi
 - bahasa dan budaya
 - makanan dan pakaian
 - komunikasi dan transportasi
84. Perhatikan lambang Koperasi berikut !
- Lambang usaha/karya terus menerus yang harus dicapai oleh koperasi adalah
- Kapas dan Padi
 - Pohon Beringin
 - Timbangan
 - Gigi Roda
- 
- The logo of Koperasi Indonesia is circular. It features a central green tree with a red and white background. Above the tree is a yellow gear and a scale of justice. The text 'KOOPERASI INDONESIA' is written in a banner at the bottom.
85. Tujuan utama didirikannya koperasi adalah
- mengusahakan keuntungan usaha sebesar-besarnya
 - meningkatkan kesejahteraan para anggotanya
 - menyediakan pekerjaan bagi pada anggota koperasi
 - memberikan modal usaha bagi masyarakat
86. Sebuah negara dikategorikan (digolongkan) sebagai negara besar, karena memiliki beberapa persyaratan sebagai berikut, **kecuali**
- peninggalan sejarahnya
 - wilayah yang luas
 - penduduk yang banyak
 - industri yang sangat maju



87. Perhatikan gambar kenampakan buatan berikut ini !
Yang bukan merupakan kenampakan buatan yang terdapat di Mesir adalah



A



B



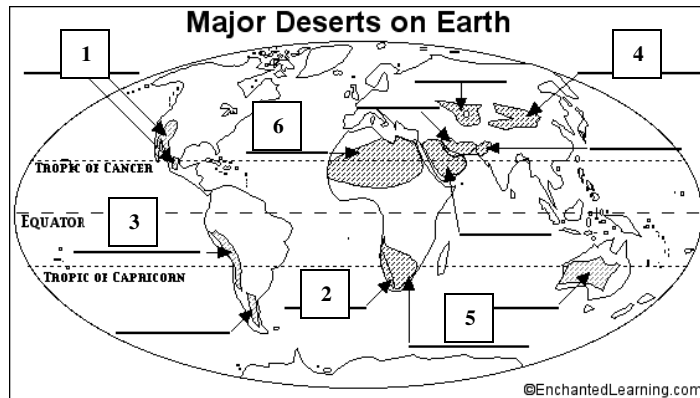
C



D

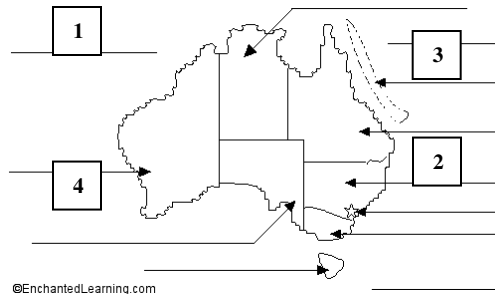
88. Lokasi gurun Sahara dan gurun Kalahari pada peta di samping ditunjukkan dengan angka

- a. 1 dan 2
- b. 3 dan 5
- c. 3 dan 4
- d. 5 dan 6



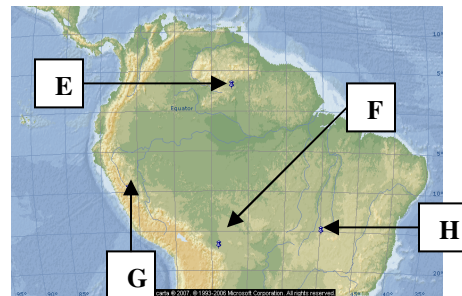
89. Lokasi Kota Canberra pada peta Australia di samping ditunjukkan dengan angka

- a. 1
- b. 2
- c. 3
- d. 4



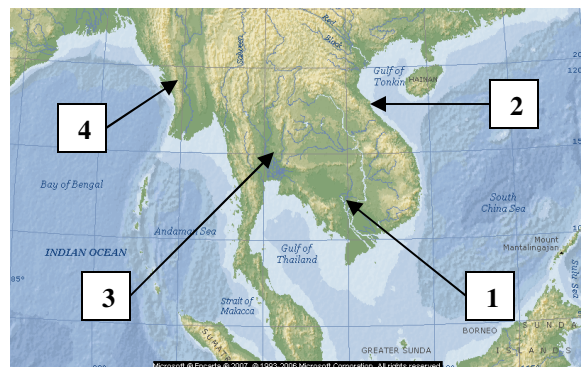
90. Perhatikan peta di samping !
Air terjun The Angel terletak pada wilayah yang ditunjukkan dengan huruf

- a. H
- b. G
- c. F
- d. E



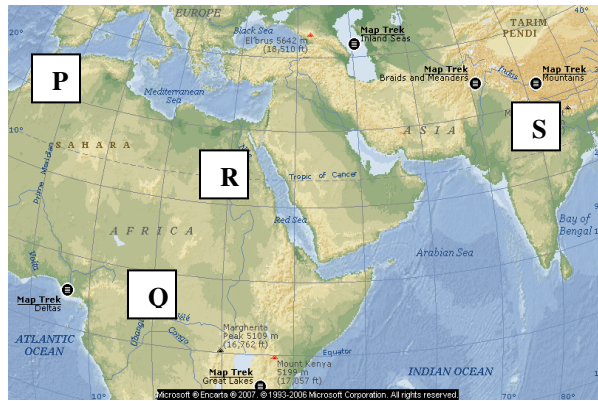
91. Wilayah Myanmar pada peta di samping ditunjukkan dengan angka

- a. 4
- b. 3
- c. 2
- d. 1



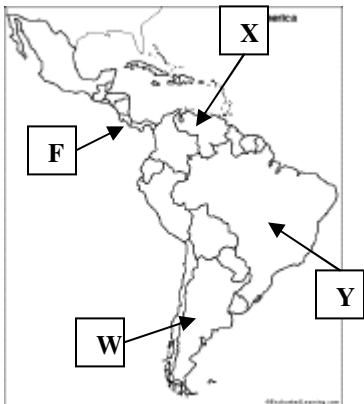
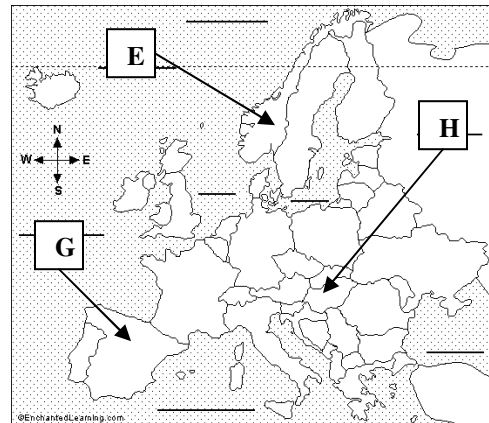
92. Perhatikan peta di bawah ini !
Lokasi wilayah Mesir ditunjukkan dengan huruf

- a. P
- b. Q
- c. R
- d. S



93. Pada peta buta di samping, Italy ditunjukkan dengan huruf

- a. E
- b. F
- c. G
- d. H



94. Wilayah negara Brazilia pada peta di samping ditunjukkan dengan huruf

- a. W
- b. X
- c. Y
- d. Z

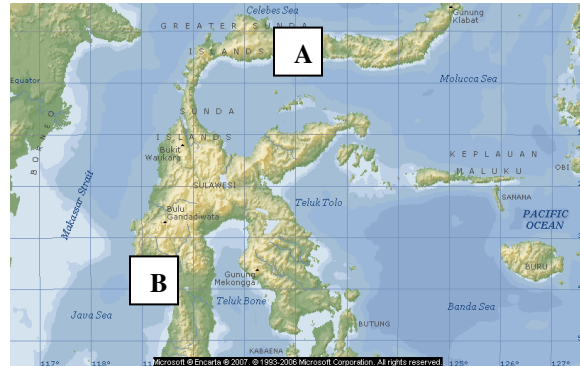
95. Berikut ini adalah nama-nama provinsi yang ada sejak awal Indonesia merdeka, kecuali

- a. Sumatra, Jawa Barat
- b. Jawa Tengah, Jawa Timur
- c. Borneo, Sulawesi
- d. Papua, Bali



96. Dua propinsi di kawasan Indonesia Timur yaitu Papua dan Maluku Utara, ibukota provinsinya adalah
- Manokwari dan Ambon
 - Jayapura dan Ternate
 - Timika dan Ambon
 - Jayapura dan Ambon

97. Perhatikan peta di samping ! Wilayah yang ditunjukkan oleh huruf A dan B adalah provinsi terbaru yang terbentuk sejak tahun 2003, yaitu provinsi



- Sulawesi Utara dan Sulawesi Selatan
 - Gorontalo dan Sulawesi Tengah
 - Gorontalo dan Sulawesi Barat
 - Sulawesi Utara dan Sulawesi Tenggara
98. Laut yang telah ditetapkan berjarak 12 mil dari garis dasar ke arah laut lepas dimana suatu negara berdaulat atas perairan dan isi dasar laut dan tanah di bawahnya maupun ruang di atasnya serta seluruh kekayaan di dalamnya adalah laut
- Teritorial
 - Internasional
 - Nasional
 - Nusantara
99. Berikut ini adalah upaya-upaya yang dapat kita lakukan dalam melestarikan laut di Indonesia, **kecuali**
- Melarang pembuangan limbah berbahaya ke laut
 - Membuat terumbu karang dan rumpon sebagai habitat biota laut
 - Melakukan penangkapan ikan di laut dengan jaring pukat harimau
 - Menanam pohon bakau di sepanjang pantai
100. Isi "Deklarasi Juanda" pada intinya adalah
- Deklarasi wilayah laut bangsa-bangsa
 - Gagasan Wawasan Nusantara di wilayah laut
 - Penetapan Batas Landas Kontinen wilayah laut Internasional
 - Penetapan Wilayah Zona Ekonomi Eksklusif

End of Part One Good Luck !

